

1/ اكتب الأعداد بالحروف و الأرقام

الأعداد و الحساب

..... 58 •

..... سَبْعَةٌ وَ ثَمَانُونَ •

2/ أتمم كل عدد إلى العشرة الموالية

45 + = 50

77 + = 80

61 + = 70

استعمل مسطرتك لقياس الأشرطة

المقادير و القياس




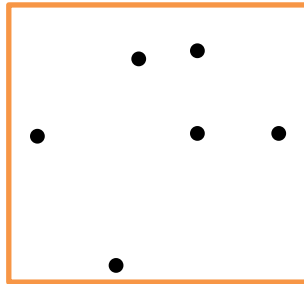

..... سنتيمتر




..... سنتيمتر

..... سنتيمتر

اربط النقط الثلاثة التي هي على استقامة في كل مرة

الفضاء و الهندسة



هـ					
د					
ج					
ب					
أ					
	1	2	3	4	5

أجب بصحيح أو خطأ

تنظيم معطيات

..... الكلب في الخانة 3 د

..... القط في الخانة 1 هـ

..... التمساح في الخانة 4 ب

الإدماج

عند مهدي 28 كرية ، أعطى لأصدقائه 5 كريات .

كم كرية بقيت معه ؟

العملية

الجواب

--	--	--	--	--	--	--	--	--	--	--	--	--	--	--	--	--	--	--	--